

ΠΡΟΤΕΙΝΟΜΕΝΕΣ ΑΠΑΝΤΗΣΕΙΣ ΦΥΣΙΚΗΣ
ΠΡΟΣΑΝΑΤΟΛΙΣΜΟΥ Γ ΛΥΚΕΙΟΥ (4.ΣΤΕΡΕΟ 2 ΝΟΜΟΣ)

ΘΕΜΑ Α:

- A. 1. δ *
 2. α
 3. γ **
 4. γ ***
 B. 1. Σ
 2. Λ ****
 3. Σ

* Σε ορισμένα στερεά (π.χ. δακτυλίδι) το κέντρο μάζας είναι έξω από το σώμα.

** Πρέπει
 $\Sigma \vec{\tau} = 0 \Rightarrow \bar{\tau}_x + \bar{\tau}_y = 0$

**** Μπορεί $\Sigma \vec{F} = 0$ (π.χ. ζεύγος δυνάμεων)

*** Αφού

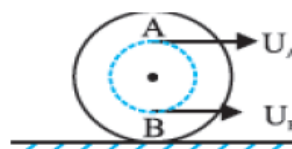
$\Sigma \vec{\tau} = \text{σταθ.} \Rightarrow \vec{a} = \text{σταθ.}$ άρα
 $\omega = \alpha t$, όμως $\omega = 2\pi f$ και
 τελικά $f = \frac{\alpha t}{2\pi}$. (αντίστοιχα
 σκεφτόμαστε αν υπάρχει και ω_0).

ΘΕΜΑ Β:

- A. 1. Είναι

$$\left. \begin{aligned} v_A &= v_{cm} + v = v_{cm} + \omega r \\ v_B &= v_{cm} - v = v_{cm} - \omega r \end{aligned} \right\} \Rightarrow$$

$$v_A + v_B = 2v_{cm} \Rightarrow v_{cm} = 4\text{m/s.}$$



2. i. γ

ii. Είναι $\left. \begin{aligned} v &= \omega r \\ v_{cm} &= \omega R \end{aligned} \right\} \Rightarrow \frac{r}{R} = \frac{v}{v_{cm}}$

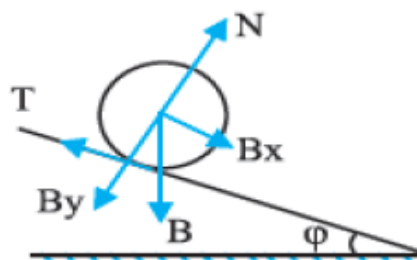
Όμως από ερ.1 έχουμε ότι $v = 2\text{m/s}$ και

$$v_{cm} = 4\text{m/s. Άρα: } \frac{r}{R} = \frac{1}{2}.$$

- B.α. Είναι $\Sigma F_x = m\alpha_{cm} \Rightarrow$
 $m g \eta \mu \phi - T = m\alpha_{cm}$ (1)
 και

$$\Sigma \tau = I\alpha \Rightarrow T \cdot R = \frac{2mR^2}{5} \alpha$$
 (2)

$$\text{Όμως } \alpha_{cm} = \alpha \cdot R \Rightarrow \alpha = \frac{\alpha_{cm}}{R}$$
 (3)



$$(2) \rightarrow T \cdot R = \frac{2mR^2}{5} \frac{a_{cm}}{R} \Rightarrow T = \frac{2ma_{cm}}{5} \quad (4)$$

$$(1) \rightarrow = mg\eta\mu\phi - \frac{2ma_{cm}}{5} = ma_{cm} \Rightarrow a_{cm} = \frac{5}{7}g\eta\mu\phi. *$$

* Από την απάντηση φαίνεται ότι τα a_{cm} είναι το ίδιο για όλους τους κυλίνδρους.

β. i. Αφού το a_{cm} είναι ανεξάρτητο από τα m, R θα είναι:

$$s = \frac{a_{cm} \cdot t^2}{2} \Rightarrow t = \sqrt{\frac{2s}{a_{cm}}}. \text{ άρα το } t \text{ καθόδου είναι το ίδιο για}$$

όλους τους κυλίνδρους.

** Ελέγξτε αν ισχύει το ίδιο και για τα v_1, v_2

ii. Είναι $\omega = a \cdot t = \frac{a_{cm}}{R} \cdot t$, άρα τα ω, R είναι αντιστρόφως ανά-

λογα αφού a_{cm} , t είναι σταθερά κι έτσι θα ισχύει $\omega_2 > \omega_1$. **

Z1 ΘΕΜΑ Γ:

α. Εφαρμόζουμε τις συνθήκες ισορροπίας:

Σώμα Σ:

$$\Sigma \vec{F}_y = 0 \Rightarrow T = W_1 = 100\text{N}.$$

Ράβδος:

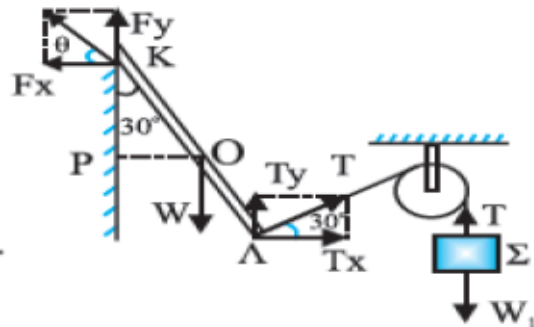
$$\Sigma \vec{F}_x = 0 \Rightarrow T_x = F_x \Rightarrow F_x = T \sin 30^\circ = 50\sqrt{3}\text{N}.$$

$$\Sigma \vec{F}_y = 0 \Rightarrow W = T_y + F_y \Rightarrow$$

$$F_y = W - T \eta\mu 30^\circ = 50\text{N}.$$

$$\text{Άρα } F = \sqrt{F_x^2 + F_y^2} = 100\text{N} \text{ και}$$

$$\epsilon\phi\theta = \frac{F_y}{F_x} = \frac{\sqrt{3}}{3} \Rightarrow \theta = 30^\circ.$$



β. Όταν κοπεί το νήμα, στη ράβδο ασκούνται η δύναμη F από την άρθρωση K και το βάρος της W στο κέντρο O . Αρχικά, με το θεώρημα Steiner, υπολογίζουμε τη νέα ροπή αδράνειας ως προς K :

$$I = I_{cm} + Md^2 = \frac{ML^2}{12} + M\left(\frac{L}{2}\right)^2 = \frac{ML^2}{12} + \frac{ML^2}{4} = \frac{ML^2}{3}.$$

$$\mu\epsilon \quad M = \frac{W}{g} = 10\text{Kg}$$

Από το θεμελιώδη νόμο της στροφικής κίνησης λοιπόν έχουμε:

$$\Sigma\tau = I\alpha \Rightarrow \alpha = \frac{\Sigma\tau}{I} = \frac{W \cdot \frac{L}{2} \cdot \eta\mu 30^\circ}{\frac{ML^2}{3}} \Rightarrow \alpha = 3,75 \text{ rad/s}^2 \quad *$$

* Η απόσταση του φορέα του W από το Κ είναι η ΟΡ, η οποία από το τρίγωνο ΚΡΟ είναι:

ΘΕΜΑ Δ:

α. Για τις διάφορες κινήσεις ισχύουν:

Σώμα m:

$$\Sigma \vec{F}_y = m\alpha_{cm} \Rightarrow mg - F = m\alpha_{cm} \quad (1)$$

Μεταφορική σώματος M:

$$\Sigma \vec{F}_x = M\alpha_{cm} \Rightarrow 2T = M\alpha_{cm} \quad (2) \quad **$$

Στροφική του σώματος M:

$$\Sigma\tau = I\alpha \Rightarrow F \cdot R - 2T \cdot R = \frac{MR^2}{2} \cdot \frac{\alpha_{cm}}{R} \Rightarrow$$

$$\Rightarrow F - 2T = \frac{M\alpha_{cm}}{2} \quad (3)$$

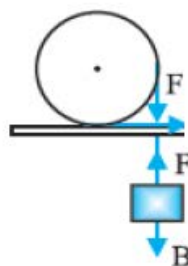
$$(3) \xrightarrow{(2)} F = M\alpha_{cm} + \frac{M\alpha_{cm}}{2} \Rightarrow F = \frac{3M\alpha_{cm}}{2} \quad (4)$$

$$\text{και } (1) \xrightarrow{(4)} mg - \frac{3M\alpha_{cm}}{2} = m\alpha_{cm} \Rightarrow$$

$$\alpha_{cm} = \frac{mg}{\frac{3M}{2} + m} = 2,5 \text{ m/s}^2.$$

$$\beta. h = \frac{\alpha_{cm} t^2}{2} \Rightarrow t = \sqrt{\frac{2h}{\alpha_{cm}}} = 2 \text{ s} \quad \text{και}$$

$$\omega = \alpha \cdot t = \frac{\alpha_{cm}}{R} \cdot t \Rightarrow \omega = 10 \text{ rad/s.}$$



** Προσέξτε ότι στον κύλινδρο ασκούνται δύο τριβές, μία από κάθε οδηγό.

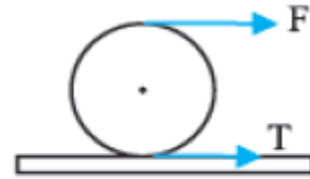
γ. Μεταφορική κίνηση:

$$\Sigma \vec{F}_x = M\alpha_{cm} \Rightarrow F + 2T = M \cdot \alpha_{cm} \quad (1)$$

Στροφική κίνηση:

$$F \cdot R - 2TR = I\alpha \Rightarrow$$

$$\Sigma \tau = I\alpha \Rightarrow FR - 2TR = \frac{MR^2}{2} \cdot \frac{\alpha_{cm}}{R} \Rightarrow$$



$$F - 2T = \frac{M\alpha_{cm}}{2} \quad (2)$$

Αν προσθέσουμε κατά μέλη τις (1) και (2):

$$2F = \frac{3M\alpha_{cm}}{2} \Rightarrow \alpha_{cm} = \frac{20}{3} \text{ m/s}^2.$$

δ. Για να κυλάει ο κύλινδρος χωρίς ολίσθηση, πρέπει

$$T < T_{\text{στ. max}} \Rightarrow T < \mu N \Rightarrow T < \mu Mg \Rightarrow \mu > \frac{T}{Mg}.$$

Όμως $T = \frac{5}{3} \text{ N}$ (ερ.γ) άρα $\mu > \frac{5}{60} \Rightarrow \mu > \frac{1}{12}$ άρα είναι δυνατόν. *

* Θεωρούμε ότι

$$T_{\text{στ. max}} = T_{\text{ολίσθησης}} = \mu \cdot N.$$

ΒΙΒΛΙΑ ΟΡΟΣΗΜΟ
ΟΡΟΣΗΜΟ ΠΕΙΡΑΙΑ
ΠΑΓΚΑΛΗΣ ΔΗΜΗΤΡΗΣ